



DOSSIER "Historia y Geografía 5TO BÁSICO"

SEMANA 3	
ASIGNATURA	Historia y Geografía.
FECHA	Semana a trabajar desde el 30 de marzo hasta 10 de abril.
CLASE N°	1,2,3.
OBJETIVOS	✓ OBJETIVO: Identificar las grandes zonas de Chile y sus paisajes (Norte Grande)
HABILIDADES	✓ Elaborar ✓ Analizar ✓ Identificar ✓ Reconocer ✓ Comprender ✓ Explicar ✓ Investigar
CONTENIDO	✓ Reconocer las regiones que corresponden a cada zona Natural de Chile. ✓ Analizar la zona Natural del Norte Grande. ✓ Dibujar e ilustrar. ✓ Identificar a través de imágenes características del Norte de Chile.
CORREO	Docente: Alejandro Aqueda Arenas. alejandroaqueda@gmail.com
EVALUACIÓN	Formativa.



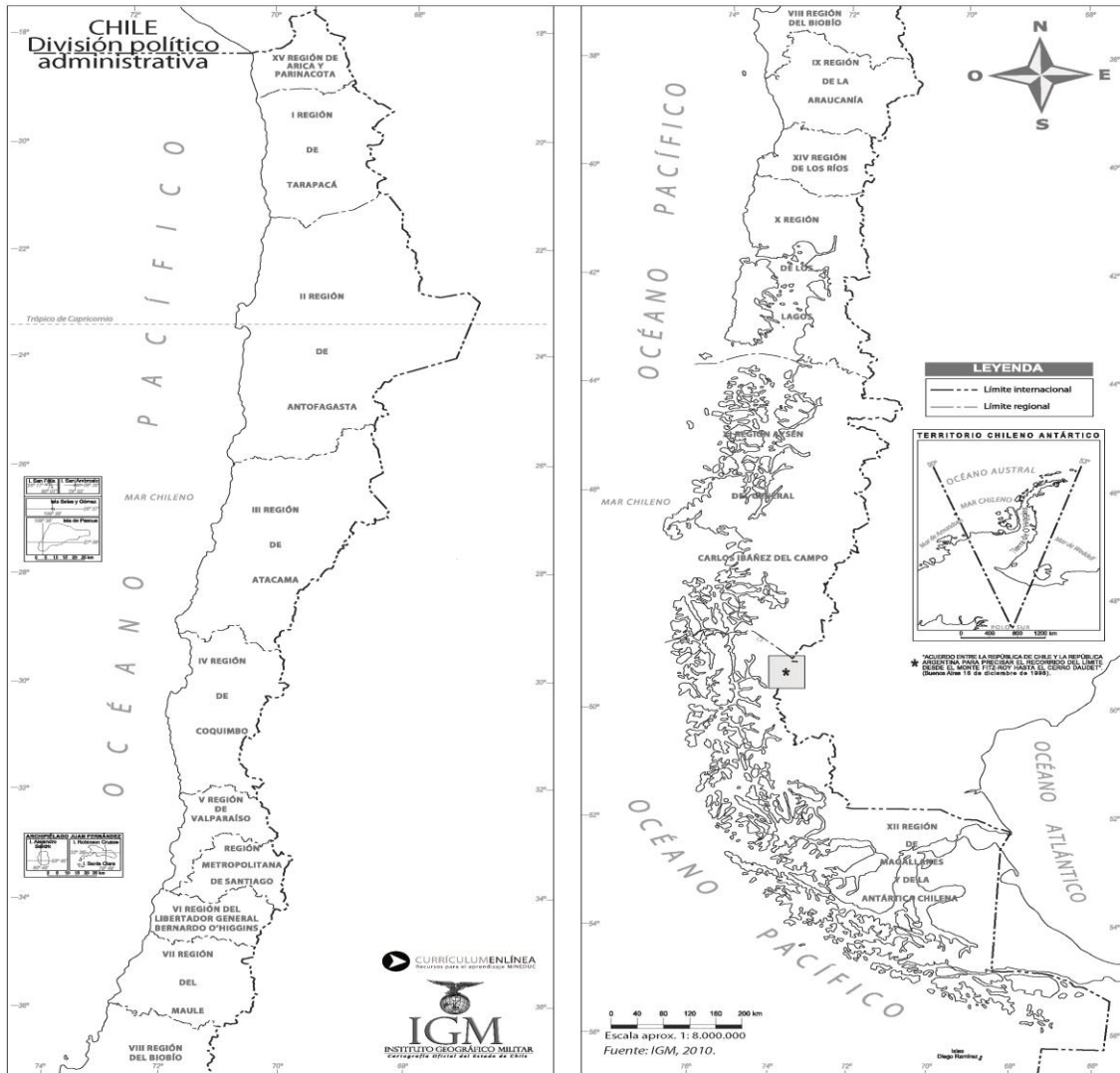
Guía de Historia Y Geografía 5° BÁSICOS

Nombre: _____ Curso: _____

OBJETIVO: Identificar las grandes zonas de Chile y sus paisajes (Norte Grande)

Zonas Naturales de Chile

Nuestro territorio se encuentra dividido en 15 regiones. Las cuales se dividen en provincias y estas en comunas. Las zonas Naturales se dividen en cinco



I.- Completa el cuadro en tu cuaderno con el número de la región que corresponda a cada zona Natural de Chile



En el mapa que está a tu izquierda podrás observar Chile dividido de acuerdo a cada Zona Natural con un color en particular. En el recuadro que está debajo completar con las regiones que se encuentran en cada Zona.
¡Buena Suerte!



Zona natural	Regiones
Norte Grande	
Norte Chico	
Zona Central	
Zona Sur	
Zona Austral	

Zona Norte Grande

Paisaje

En los paisajes de esta zona se encuentra el desierto de Atacama (el más seco del mundo). Sin embargo, también existen valles, oasis (como el valle de Azapa y el oasis de Pica), quebradas, salares, playas cálidas y cumbres nevadas. Es una zona minera por excelencia, especialmente de cobre.

Población

La población de la Región de Arica y Parinacota alcanza los 189.644 habitantes, en la Región de Tarapacá, la población llega los 236.950 habitantes y en la Región de Antofagasta hay 493.984 habitantes (Censo 2002).

Recursos Naturales

Gran riqueza de yacimientos metálicos (cobre, plata, oro, hierro) y no metálicos (cloruro de sodio, carbonato de calcio, cuarzo, etc.). Sus costas están bañadas por aguas marinas muy productivas, sustentando uno de los mayores centros de pesca del país.

Uno de los elementos más significativos de cualquier paisaje natural es el **Relieve**.



La Cordillera de la Costa, al igual que la de Los Andes, es alta y maciza, y se caracteriza por bajar hacia el mar en forma de un fuerte acantilado, recibiendo el nombre de Farellón Costero.

La Cordillera de los Andes presenta alta y maciza, se funde con el altiplano, es decir, con la zona alta y plana que la antecede.

Las Planicies Litorales, se presenta escasa y discontinua a lo largo de esta zona del país.

La Depresión Intermedia, se presenta como una meseta desértica cortada por el paso de quebradas, dando origen a una serie de pampas, que reciben nombres locales: como la pampa del Tamarugal o la de Tana.

El Altiplano constituye un tipo de relieve propio del Norte Grande. Debido a su altura presenta un clima y vegetación especial, lo que lo transforma en un hábitat con características propias de gran riqueza en flora y fauna típicas del lugar.

Actividad II

Responde en tu cuaderno las siguientes preguntas

1.- ¿Cuál serían las principales diferencias entre el Desierto de Atacama y El Valle de Azapa ?

2.- ¿Cuál es la principal diferencia entre la cordillera de la costa y la cordillera de los Andes ? Argumenta

3.- Con el cobre que se extrae de esta zona ¿ Para que será utilizado ?

4.- ¿ El Desierto de Atacama será un lugar apto para vivir ? Fundamenta tu respuesta

Actividad N° 3

Dibuja en tu cuaderno con la ayuda de un atlas Chile, marca y destaca El Norte Grande, además deberás señalar

- a.- Desierto de Atacama
- b.- El Valle de Azapa
- c.- Oasis de Pica
- d.- Alguna zona minera

Actividad N° 4

Completa la siguiente tabla en tu cuaderno con los datos de la población de la Zona Norte



Región			
Habitantes			

Analiza y responde en tu cuaderno

¿Qué conclusiones puedes extraer de los datos representados en la tabla ?

Actividad N° 5

Dibuja en tu cuaderno las siguientes imágenes de la Zona del Norte Grande de Chile y explica a lo menos tres características de ellas

LISTA DE COTEJO Zonas Naturales de Chile (Norte Grande) 5tos BÁSICOS

Indicadores	Cumple (1 pto.)	No cumple (0 pto.)
1.- Aclara dudas vía correo electrónico, retroalimentando y mejorando permanentemente su trabajo.		
2.- Completar el cuadro con numero de región que corresponde a cada zona Natural De Chile		
3.-.Identifica diferencias entre el desierto de Atacama y el Valle de Azapa		
4.- Reconoce diferencias entre Cordillera de la Costa y Cordillera de los Andes		
5.- Investiga sobre la utilización del cobre.		
6.- Argumenta sobre la factibilidad de vida en el desierto de Atacama		
7.- Dibuja y marca principales lugares del Norte Grande		
8.- Completa tabla con datos de regiones y habitantes del Norte Grande		
9.- Análisis de cuadro (Región y Habitantes)		
10.- Dibujos y análisis de imágenes del Norte Grande de Chile		
Total (10 puntos)		

NOTA:

--	--