



GUIA DE ESTUDIO PRIMEROS AÑOS 2020

Nombre: _____ Fecha: _____

TITULO: DOSSIER “Números ordinales”

Para trabajar en el hogar en las fechas indicadas, continuando con el horario del curso

SEMANA 1 y 2	
ASIGNATURA	matemática
FECHA	30 de marzo
CLASE N°	2
OBJETIVO	Identificar el orden de los elementos de una serie, utilizando números ordinales del primero (1°) al décimo (10°).(OA2)
HABILIDADES	<ul style="list-style-type: none">› Representar y comparar números, utilizando material concreto y un lenguaje matemático inicial.› Estimar cantidades y relacionarlas con cantidades conocidas.› Comunicar procedimientos de descubrimiento, comparación y descripciones, utilizando un lenguaje claro.
CONTENIDO	Numero ordinales
DESCRIPCIÓN DEL CONTENIDO	Conocer números ordinales y aplicarlos en resolución de problemas
EJERCICIOS	Practica individual
EVALUACIÓN	constanzacelis@gmail.com (1°A) integracióngermanriesco@gmail.com (1°A) labranapaola@gmail.com (1°B) profemyrnarojas@gmail.com (1°C)

CONOZCO LOS NÚMEROS ORDINALES.

Los números tienen diferentes funciones, una de ellas es ordenar. A estos números se les llama **números ordinales**.
1º, 2º, 3º, 4º, 5º, 6º, 7º, 8º, 9º, 10º.

1. Observa y responde encerrando



a. ¿Qué perro llegó primero?



b. ¿Qué perro llegará en tercer lugar?




Dibuja según se indique.

a. Una  en el 5º piso

b. Un  en el 6º piso


c. Un  en el 1º piso

d. Una  en el 2º piso

e. Un  en el 4º piso

f. Una  en el 3º piso

g. Un  en el 7º piso



2- Dibuja en la imagen según se indique.

- a. Un sombrero al estudiante en el 4° lugar.
- b. Un globo al estudiante en el 2° lugar.
- c. Una pelota al estudiante en el 5° lugar




3- Observa la fila de chinitas y sigue las instrucciones.



- a. Marca con una ✕ la chinita que ocupa el cuarto lugar de la fila.
- b. Marca con un ✓ la chinita que ocupa el primer lugar de la fila.
- c. Marca con un ✱ la chinita que ocupa el sexto lugar de la fila.

RESUELVO PROBLEMAS CON NÚMEROS ORDINALES

Para resolver problemas con números ordinales puedes representar el problema haciendo un dibujo:



1-

Los puntajes en el **grupo A** de la copa América 2015 fueron:

¿Qué lugar en el grupo obtuvieron los siguientes países? Escríbelos.

Chile Bolivia

Ecuador México

Chile → 7 puntos

Bolivia → 4 puntos

Ecuador → 3 puntos

México → 2 puntos



Los puntajes en el **grupo B** de la copa América 2015 fueron:

Argentina → 7 puntos

¿Qué lugar en el grupo obtuvieron los siguientes países? Escríbelos.

Uruguay → 5 puntos

Argentina Uruguay

Jamaica → 4 puntos

Jamaica Paraguay

Paraguay → 0 puntos

2-

3- Responde a partir del calendario.

En el calendario aparecen los días de la semana.

ENERO 2017						
LUNES	MARTES	MIÉRCOLES	JUEVES	VIERNES	SABADO	DOMINGO
						1
		5	6	7	8	
	12	13	14	15		
	19	20	21	22		
	26	27	28	29		

a. ¿Cuál es el primer día de la semana?

1° Represento:

LUNES	MARTES	MIÉRCOLES	JUEVES	VIERNES	SABADO	DOMINGO
2	3	4	5	6	7	8

2° Respondo: El 1° día de la semana es _____.

b. Si hoy es el segundo día de la semana y Daniela irá a natación en tres días más, ¿en qué lugar de la semana está el día que irá Daniela a natación?

1° Represento:

LUNES	MARTES	MIÉRCOLES	JUEVES	VIERNES	SABADO	DOMINGO
2	3	4	5	6	7	8

2° Respondo: El día de la semana irá Daniela a natación.

c. Si hoy es el tercer día de la semana y Patricio decide ir a ver a su abuelita en tres días más, ¿en qué lugar de la semana está el día que irá Patricio a ver a su abuelita?

1° Represento:

LUNES	MARTES	MIÉRCOLES	JUEVES	VIERNES	SABADO	DOMINGO
2	3	4	5	6	7	8

2° Respondo: El día de la semana irá Patricio a ver a su abuelita.